



Bài 1: Nhà Mai có 2 con gà. Mỗi con gà đẻ 9 quả trứng. Hỏi có tất cả bao nhiêu quả trứng?

a. *Đúng ghi Đ, sai ghi S*

A. 11 quả trứng

B. 18 quả trứng


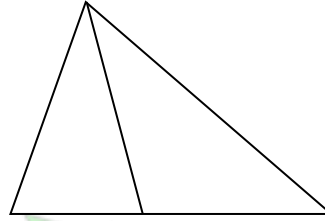
b. Hình vẽ dưới đây có bao nhiêu đoạn thẳng?

A. 3 đoạn thẳng

B. 4 đoạn thẳng

C. 5 đoạn thẳng

D. 6 đoạn thẳng



Bài 2 : Điền số thích hợp vào chỗ chấm:

$8 + \dots = 10$

$6 + 4 + 5 = \dots$

$3 + 7 + \dots = 17$

$\dots + 6 = 10$

$6 + \dots + 5 = 15$

$\dots + \dots + 3 = 13$

Bài 3: Đặt tính rồi tính:

$4 + 26$

$9 + 52$

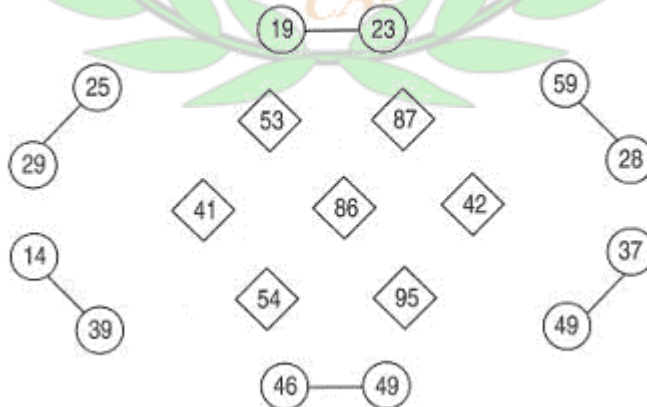
$89 + 16$

$22 + 68$

$59 + 11$



Bài 4: Nối cặp hai số với tổng của hai số đó.



Bài 5: Giải toán: An có một số viên bi.

An cho Bình 9 viên bi thì còn lại 15 viên bi.

Hỏi lúc đầu An có mấy viên bi?



Tóm tắt

.....
.....
.....

Bài giải

.....
.....
.....

Bài 6: Giải toán: Một cửa hàng buổi sáng bán 3 chục hộp bút, buổi chiều bán được 12 hộp bút. Hỏi cả hai buổi cửa hàng bán được bao nhiêu hộp bút?

Bài giải

.....
.....
.....
.....

Bài 7: Đố Vui: Điền mỗi số 4, 5, 9 vào một ô trống sao cho tổng của ba số liền nhau nào cũng bằng 18 :



♣♣♣♣ Hết ♣♣♣♣

Chúc các con tự tin làm bài đạt kết quả cao!

**PHẦN 1 - TRẮC NGHIỆM**

Khoanh vào chữ đặt trước câu trả lời đúng hoặc làm theo yêu cầu:

Câu 1: Số ngôi sao màu xanh gấp ... lần số ngôi sao màu vàng. Điền số thích hợp vào chỗ chấm:



A. 3

B. 2

C. 4

D. 5

Câu 2: Số bé bằng $\frac{1}{5}$ lần số lớn. Hỏi số lớn gấp mấy lần số bé ?

A. 1 lần

B. 6 lần

C. 2 lần

D. 5 lần

Câu 3: Đoạn thẳng AB dài 5cm, đoạn thẳng CD dài 25cm. Hỏi độ dài đoạn thẳng CD gấp mấy lần độ dài đoạn thẳng AB.

A. 4 lần

B. 5 lần

C. 6 lần

D. 3 lần

Câu 4: Số lớn gấp 9 lần số bé. Số bé bằng 3. Số lớn là:

A. 12

B. 18

C. 53

D. 27

Câu 5: Số ô vuông màu hồng gấp mấy lần số ô vuông màu xanh?



A. 4 lần

B. 3 lần

C. 5 lần

D. 2 lần

Câu 6: Heo con nặng 30 kg, heo mẹ nặng gấp 4 lần con lợn con. Hỏi cả hai mẹ con heo nặng bao nhiêu ki lô gam?

A. 120

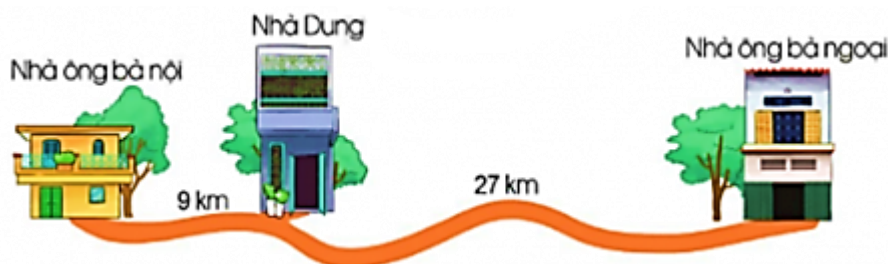
B. 180

C. 150

D. 140

PHẦN 2 - TƯ LUẬN

Bài 1. Quan sát hình và cho biết:



a. Quãng đường từ nhà Dung đến nhà ông bà ngoại dài gấp mấy lần quãng đường từ nhà Dung đến nhà ông bà nội?

.....
.....
.....

b. Quãng đường từ nhà ông bà ngoại đến nhà ông bà nội dài bao nhiêu ki-lô-mét?

.....
.....
.....

Bài 2: Đàn gà có 64 con. Trong đó có 8 gà trống, còn lại là gà mái. Hỏi số gà mái gấp mấy lần số gà trống?

Bài giải

.....
.....
.....
.....
.....
.....

Bài 3: Một đội công nhân, ngày thứ nhất làm được 150 sản phẩm. Ngày thứ hai được tăng cường máy móc nên năng suất tăng gấp 4 lần. Hỏi cả hai ngày đội công nhân đó làm được bao nhiêu sản phẩm?

Bài giải

.....
.....
.....
.....
.....
.....

♣♣♣♣ *Hết* ♣♣♣♣

Chúc các con tự tin làm bài đạt kết quả cao!